

Sprawdzian z szóstej klasy

OTACZAJĄCY MNIE ŚWIAT

kasztelański o dużym znaczeniu politycznym i gospodarczym; wzmiankowany w 1177r.; rozwój handlu dzięki położeniu przy szlaku z Rusi na Morawy i Śląsk. Lwóweckie prawa miejskie otrzymał Oświęcim od Władysława, kolejnego księcia opolskiego, ok. roku 1272.

Oświęcim, woj. małopolskie, dawne woj. bielskie, w Kotlinie Oświęcimskiej, przy ujściu Soły do Wisły; 43,5 tys. mieszk. (1998); ośr. przem. i turyst. W XII w. gród

1. Cechy zamieszczonego tekstu wskazują, że jest on fragmentem:

- A. utworu poetyckiego,
- B. utworu literackiego,
- C. notatki z encyklopedii,
- D. informacji z podręcznika szkolnego.

2. Na zamieszczonej poniżej osi czasu zaznacz i podpisz wiek, w którym nadano Oświęcimowi prawa miejskie.



3. Oświęcim w roku 1998 liczył:

- A. 435 000 mieszkańców,
- B. 43 500 mieszkańców,
- C. 435,00 mieszkańców,
- D. 45 300 mieszkańców.

4. Przedstawiony obok herb miasta Oświęcimia



- A. ma 1 oś symetrii,
- B. ma 2 osie symetrii,
- C. ma 4 osie symetrii,
- D. nie ma żadnej osi symetrii.

5. W jakim województwie leży Oświęcim?

- A. małopolskim, B. bielskim, C. oświęcimskim, D. śląskim.

6. Od kogo Oświęcim otrzymał prawa miejskie?

- A. od Władysława Jagiełły, B. od Władysława Warneńczyka,
- C. od Władysława, księcia opolskiego.

7. Spójrz na fragment planu Oświęcimia poniżej. W którą stronę świata płynie rzeka Soła?

- A. na północ, B. na południowy zachód, C. na zachód, D. na południe.

8. Jakie mosty na Sole zaznaczono na mapie?

- A. Dębnicki i Piastowski, B. Piastowski i Jagielloński,
- C. Grunwaldzki i Piastowski, D. Poniatowskiego i Świątokrzyski.

9. Wymień 2 obiekty położone przy ulicy Wysokie Brzegi:

.....

10. Dyrektor chce ogrodzić działkę szkolną, która na mapie Oświęcimia ma kształt prostokąta o długości 2 cm i szerokości 1,5 cm.

- a. Podaj, jakie są rzeczywiste wymiary działki?
 Długość
 Szerokość
- b. Oblicz, ile metrów siatki potrzeba na wykonanie ogrodzenia szkoły?
 Odp.....

11. Poniżej przedstawiono zdjęcie wykonane 15 listopada.

Przedstawia ono dąb, który uznany został za pomnik przyrody. Podczas trwającej wtedy pory roku:

- A. dzień jest krótszy od nocy, B. dzień jest dłuższy od nocy,
- C. dzień jest równy nocy.



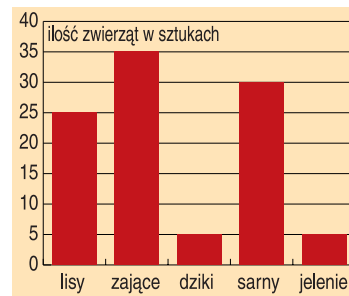
12. Wyobraź sobie, że jesteś dębem przedstawionym na zdjęciu. Zredaguj w jego imieniu list do człowieka.

.....

13. Napisz w formie równoważników zdań trzy argumenty informujące o tym jaki jest cel tworzenia parków narodowych.

.....

14. Poniżej diagram słupkowy przedstawia liczbę zwierząt występujących na terenie koła łowieckiego Sokół w Oświęcimiu.



Uzupełnij dane:

zwierzęta	liczba
lisy
zające
dziki
sarny
jelenie
Razem

15. Które ze zdań jest prawdziwe?

- A. Lisy stanowią 30% wszystkich zwierząt uwzględnionych w tabelce.
- B. Lisy stanowią 25% wszystkich zwierząt uwzględnionych w tabelce.
- C. Lisy stanowią 40% wszystkich zwierząt uwzględnionych w tabelce.
- D. Lisy stanowią 2,5% wszystkich zwierząt uwzględnionych w tabelce.

16. Przekonaj kłusowników, do tego, żeby nie zabijali zwierząt. Sformułuj i zapisz swoją wypowiedź w formie jednego zdania złożonego.

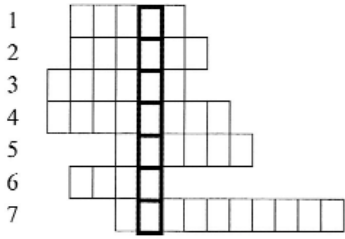
.....

17. Rozwiąż krzyżówkę i podaj hasło.

Poziomo:

- 1. Najwyższe góry w Polsce
- 2. Kontynent połączony z Azją
- 3. Stan atmosfery w danej chwili
- 4. Największe miasto w Polsce

- Trzecia planeta Układu Słonecznego
- Gaz potrzebny do procesu spalania
- Region na południu Polski.



Hasło.....

18. Połącz w pary informacje o postaciach historycznych z odpowiadającymi im osobami.

- Walczył pod Wiedniem w 1683r.
- Pierwszy historyczny władca Polski.
- Uczestniczył w Zjeździe Gnieźnieńskim w 1000 r.
- „Zastał Polskę drewnianą, a zostawił murowaną”.

- A. Kazimierz Wielki,
- B. Bolesław Chrobry,
- C. Mieszko I,
- D. Jan III Sobieski.

Do liczby dopisz odpowiednią literę:

- 1..... 2.....
3..... 4.....

19. Podaj przykłady 3 obiektów geograficznych, które w swojej nazwie mają nazwę koloru.

20. Poniżej zostały podane odległości drogowe pomiędzy niektórymi miastami Europy:

	Warszawa	Berlin	Praga	Wiedeń	Bonn	Bruksela	Amsterdam
Berlin	591						
Praga	625	339					
Wiedeń	678	819	480				
Bonn	1206	878	695	918			
Bruksela	1398	807	899	1122	204		
Amsterdam	1229	638	1028	1251	333	205	
Paryż	1606	1015	1098	1320	673	320	525

- a. Jaka jest odległość:
z Warszawy do Paryża?
z Bonn do Berlina?.....
- b. Które miasto leży dalej od Warszawy: Praga czy Wiedeń?

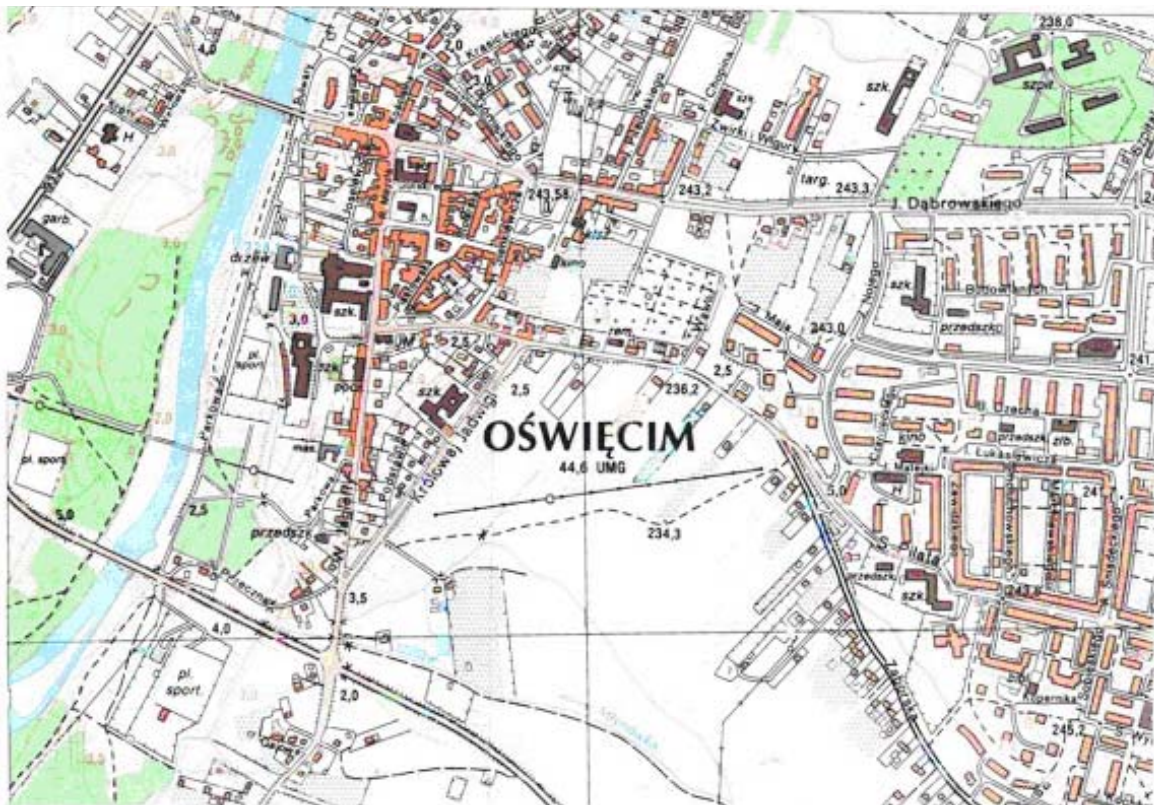
21. Rozpoznaj obiekty przedstawione poniżej. Podane nazwy wpisz w odpowiednim miejscu: Australia, Ameryka Północna i Południowa, Europa.



1)..... 2).....



3).....



Arkusze „Otaczający mnie świat” zajęły jedno z pierwszych miejsc w konkursie „Sprawdzian dla moich uczniów” ogłoszonym przez Okręgową Komisję Egzaminacyjną w Krakowie. Autorkami są nauczycielki ze Szkoły Podstawowej nr 4 w Oświęcimiu, panie Katarzyna Gładysz i Urszula Wiertel. Test ten ukaże się w zestawie testów dla szkoły podstawowej – w publikacji Wydawnictwa Szkolnego OMEGA. Otrzymaliśmy go z OKE w Krakowie.