

## UZUPEŁNIA ZESPÓŁ NADZORUJĄCY

KOD UCZNIĄ

--	--	--

DATA URODZENIA UCZNIĄ

--	--	--	--	--	--	--	--

dzień miesiąc rok

miejsce  
na naklejkę  
z kodem

# SPRAWDZIAN PRÓBNY W SZÓSTEJ KLASIE SZKOŁY PODSTAWOWEJ

**„Warzywa, owoce”**

### Informacje dla ucznia

1. Sprawdź, czy zestaw egzaminacyjny zawiera 8 stron. Ewentualny brak zgłoś nauczycielowi.
2. Sprawdźian składa się z 24 zadań.
3. Czytaj uważnie wszystkie zadania.
4. Do niektórych zadań podane są 3 odpowiedzi: A, B, C. Tylko jedna z nich jest prawidłowa. Wybierz ją i wpisz znak **X** w okienko , na przykład: .
5. Gdy się pomylisz, otocz błąd kółkiem w taki sposób:  i zaznacz prawidłową odpowiedź: .
6. Pozostałe zadania wykonaj bezpośrednio pod poleceniami. Pomyłki przekreślaj.
7. Jeśli nie potrafisz rozwiązać któregoś zadania, przejdź do następnego. Do opuszczonego wrócisz, jeśli będziesz mieć czas.
8. Na ostatnich stronach znajduje się brudnopis, z którego możesz skorzystać. To, co w nim napiszesz, nie będzie sprawdzane.

**Czas pracy:**  
**60 minut**

(można przedłużyć - nie więcej niż o 30 minut)

**Liczba punktów  
do uzyskania: 40**

**Powodzenia!**

S-A8

Przeczytaj utwór.

Julian Tuwim

**Warzywa /fragment/**

Położyła kucharka na stole:

kartofle,  
buraki,  
marchewkę,  
fasolę,  
kapustę,  
pietruszkę,  
selery  
i groch.

Och!

Zaczęły się kłótnie,  
Kłóca się okrutnie:  
Kto z nich większy,  
A kto mniejszy,  
Kto ładniejszy,  
Kto zgrabniejszy:  
kartofle?  
buraki?  
marchewka?  
fasola?  
kapusta?  
pietruszką?  
selery  
czy groch?

**Zaznacz prawidłową odpowiedź.**

1. Utwór ten jest
- A. listem.
  - B. wierszem.
  - C. instrukcją.

**Zaznacz prawidłową odpowiedź.**

2. Kucharka **nie** położyła na stole
- A. ziemniaków.
  - B. marchewki.
  - C. cebuli.

**Zaznacz prawidłową odpowiedź.**

3. W utworze warzywa
- A. rozmawiają.
  - B. kłóca się.
  - C. śpiewają.

**Zaznacz prawidłową odpowiedź.**

4. Tytuł utworu to
- A. Julian Tuwim.
  - B. Kucharka.
  - C. Warzywa.

**Zaznacz prawidłową odpowiedź.**

5. Jadalną częścią marchewki
- A. są liście.
  - B. jest korzeń.
  - C. jest korzeń i liście.

**Przeczytaj tekst.**

**Marchewkę zasiano na grządce, która ma kształt kwadratu o boku 5 metrów.**







**Zaznacz prawidłową odpowiedź.**

6. Grządka ta ma powierzchnię
- A. 5 m<sup>2</sup>
  - B. 10 m<sup>2</sup>
  - C. 25 m<sup>2</sup>

**Zaznacz prawidłową odpowiedź.**

7. Obwód tej grządki wynosi
- A. 1 m
  - B. 20 m
  - C. 25 m

8. **W wolne miejsca wpisz odpowiednie nazwy owoców i warzyw, które przedstawione są na rysunkach.**

 _____	 _____	 _____
 _____	 _____	 _____

**Przeczytaj tekst.**

**W sadzie rosną:**

- jabłonie - w 6 rzędach, w każdym rzędzie po 5 drzew,
- grusze - w 4 rzędach, w każdym rzędzie po 7 drzew.

**Zaznacz prawidłową odpowiedź.**

9. W sadzie rośnie

- A. 5 jabłoni.
- B. 11 jabłoni.
- C. 30 jabłoni.

**Zaznacz prawidłową odpowiedź.**

10. Ile łącznie drzew rośnie w sadzie?

- A. 12
- B. 22
- C. 58

**Zaznacz prawidłową odpowiedź.**

11. Grusze jest mniej od jabłoni o

- A. 2
- B. 4
- C. 6

**Oto cennik ze sklepu owocowo warzywnego.**

**Cennik**

<b>Nazwa produktu</b>	<b>Waga/ sztuka</b>	<b>Cena</b>
marchewka	1 kilogram	1.50 zł
pietruszka	1 kilogram	1.99 zł
por	1 sztuka	2 zł
cebula	1 kilogram	90 gr
kapusta biała	1 kilogram	1.30 zł
kiwi	1 sztuka	70 gr
jabłka	1 kilogram	1.50 zł
śliwki	1 kilogram	1.20 zł

**Zaznacz prawidłową odpowiedź.**

12. Z produktów kupowanych na kilogramy najdroższa jest

- A. marchewka.
- B. pietruszka.
- C. cebula.



**Przeczytaj uważnie tekst.**

Niektóre warzywa przywędrowały do Polski z daleka. Po odkryciu Ameryki w XV wieku przez Krzysztofa Kolumba fasola zagościła w Europie, a w niedługim czasie i w Polsce. Kapustę sprowadziła do naszego kraju w XVI wieku królowa Bona, która była Włoszką. W XVII wieku sadzonki ziemniaków przywiózł z Wiednia dla swej żony Marysieńki król Jan III Sobieski.

**Zaznacz prawidłową odpowiedź.**

18. Kapustę sprowadzono do Polski w wieku
- A. XV.
  - B. XVI.
  - C. XVII.

**Zaznacz prawidłową odpowiedź.**

19. Król Jan III Sobieski przywiózł do Polski sadzonki ziemniaków z
- A. Włoch.
  - B. Austrii.
  - C. Ameryki.

**Zaznacz prawidłową odpowiedź.**

20. Królowa Bona pochodziła z
- A. Włoch.
  - B. Polski.
  - C. Ameryki.

**Zaznacz prawidłową odpowiedź.**

21. Rolnik na swej działce posadził warzywa i drzewa owocowe. Na warzywa przeznaczył  $\frac{2}{9}$  działki, a na sad  $\frac{5}{9}$  działki. Rolnik przeznaczył pod wymienione uprawy w sumie
- A.  $\frac{2}{9}$  działki.
  - B.  $\frac{5}{9}$  działki.
  - C.  $\frac{7}{9}$  działki.

**Zaznacz prawidłową odpowiedź.**

22. Szukasz przepisu na sałatkę warzywną. Sięgniesz do książki
- A. *Sałatki na różne okazje.*
  - B. *Dania mięsne.*
  - C. *Kluski i kluseczki.*



## BRUDNOPIS

